



しゅくだい・おんどくカード

くみ	ぼん	なまえ
----	----	-----

にち	ようび	よんだところ	がんばり 〇〇△	プリントや かていがくしゅう	けいさんカード	いえのひと のしるし	せんせいの しるし
16	もく	うみのかくれんぼ			__ざん〇 __かい		
17	きん	うみのかくれんぼ			__ざん〇 __かい		
18	と	うみのかくれんぼ			__ざん〇 __かい		
19	にち	うみのかくれんぼ			__ざん〇 __かい		
20	けつ	うみのかくれんぼ			__ざん〇 __かい		
21	か	うみのかくれんぼ			__ざん〇 __かい		
22	すい	うみのかくれんぼ			__ざん〇 __かい		
23	もく	かずとかんじ			__ざん〇 __かい		
24	きん	かずとかんじ			__ざん〇 __かい		
25	と	かずとかんじ			__ざん〇 __かい		
26	にち	かずとかんじ			__ざん〇 __かい		
27	けつ	かずとかんじ			__ざん〇 __かい		
28	か	かずとかんじ			__ざん〇 __かい		
29	すい	かずとかんじ			__ざん〇 __かい		
30	もく	かずとかんじ			__ざん〇 __かい		

おうちのひとに おんどくを きいてもらって、がんばりのしるし(〇〇△)をかいてもらいましょう。
 プリントが終わったら、おうちのひとに まるつけをしてもらいましょう。

いろみずあそび



がつ

にち

ようび

なまえ



・いろみずで えを かこう？

かざって なに いれよう



つくりたい はこを かんがえよう。
(ふくろ)




はこ や ふくろの かざりを かんがえよう♡

(ふくろ)

はこに なにを いれるのかな。

(ふくろ)

はこを どこに おくのかな。



がんばって つくった ところを おしえてね。

かたかなを みつけよう

9/13

なまえ

①

かたかなをみつけて、ただしくかこう。

☆おてほんを

なぞってから、ていねいに

れんしゅう

しましょ。

①

コ

プ

②

ス

プ

ン

③

ジ

ム

④

サ

ラ

ダ

⑤

ゼ

リ

ー

ゼ

リ

ー

サ

ラ

ダ

ジ

ヤ

ム

ス

プ

ー

コ

ツ

プ

ら				

ち				

ま				

さ				

てほんをみて、ていねいにかきましよう。

* ひらがなをきいてかいてみる。

あ				

め				

ぬ				

さ				

ま				

てほん


ね				

れ				

わ				

ち				

ら				



たしかめ

にているところにきをつけて、ひらがなをていねいにかきましたか。

ちくちくたのしみなさい。

一のところがちがうよ。

ら	ち
ま	さ

ら	ち
---	---

ま	さ
---	---

なぞりましよう。

あ				

め				

ぬ				

さ				

ま				

なぞりましよう。

ね				

れ				

わ				

ち				

ら				

* ひらがなをきいてかいてみる。

1 2 3 4

めめてにているところいきをつけて、ひらがなをかきましよう。

2 ひらがなの かきかた
にている ひらがな

9/16




なまえ

*ひだりから みぎに かきましよう。

ていねいに なぞりましよう。

がっ になち
すずき はるか



あける あさがおのはっぱが
とてもおおきくなりました。
いろは、うすいみどり
です。さわってみると、ちく
ちくします。

○せんの あいだに かく ときに
きをつける ことを たしかめましよう。

じが せんから はみださないように。

さわってみると、

ちいさい じは
まんなかよりも したに。

てんや まるは
まんなかよりも したに。



だいじな
こと

めあて

よこがきの かきかたに きをつけて かきましよう。

よこがきの かきかた



なまえ



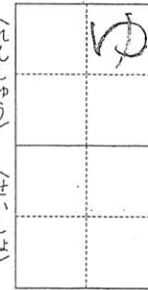
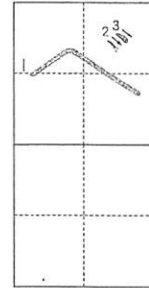
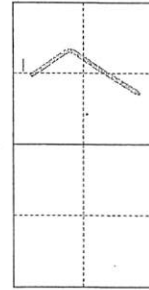

しよじャプリント③ 9がっ 17にち

だいじな
こと

かきじゅんや じの かたちを
つけて、ていねいに
かけましたか。

まぐはた○ だいじなまぐはた○ まうせじり↓

★ じぶんの なまえを 大きく ていねいにかきましよう。



ちいさく かく じ

てんや まる

ちいさく かく じや、「じや」「が」がつく じを かきましよう。



かきじゅん
2
3

★いばらきオンラインがくしゅう(なぐま)のがつ16・17・21にち

なまえ

うみのかくれんぼシート



なにが (なまえ)			
どこ (ぼく)			
からだの いし			
どのようた (かくれかた)			
きがついたこと おもったこと			



だいじな ことばを みつけながら
よみましょう。

ひまわりは、きついたら、
できましたか。きがついたこと、
おもったこと、を、てらねいこ
かきましよう。



かずと かんじ ①

9/22

なまえ

●ごくごのきょうかしょ「かずと かんじ」をよんで かぞえうたを ていねいにかきましよう。

かずと

のかぞえうた

一つたたくと、

[Blank box]

が

[Blank box]

二つたたくと、

[Blank box]

が

[Blank box]

三つたたくと、

[Blank box]

が

[Blank box]

四つたたくと、

[Blank box]

が

[Blank box]

五つたたくと、

[Blank box]

が

[Blank box]

六つたたくと、

[Blank box]

が

[Blank box]

七つたたくと、

[Blank box]

が

[Blank box]

八つたたくと、

[Blank box]

が

[Blank box]

九つたたくと、

[Blank box]

が

[Blank box]

十たたくと、

[Blank box]

が

[Blank box]

は、

で いっぱいだ。

かずと かんじ ②

9/24
なまえ

● じぶんの かぞえうたをつくらう。

のかぞえうた

一つたたくと、

二つたたくと、

三つたたくと、

四つたたくと、

五つたたくと、

六つたたくと、

七つたたくと、

八つたたくと、

九つたたくと、

十たたくと、

Blank box for writing the first line of the song.

が

Blank box for writing the first line of the song.

が

Blank box for writing the first line of the song.

が

Blank box for writing the first line of the song.

が

Blank box for writing the first line of the song.

が

Blank box for writing the first line of the song.

が

Blank box for writing the first line of the song.

が

Blank box for writing the first line of the song.

が

Blank box for writing the first line of the song.

が

Blank box for writing the first line of the song.

が

Blank box for writing the second line of the song.

。

Blank box for writing the second line of the song.

。

Blank box for writing the second line of the song.

。

Blank box for writing the second line of the song.

。

Blank box for writing the second line of the song.

。

Blank box for writing the second line of the song.

。

Blank box for writing the second line of the song.

。

Blank box for writing the second line of the song.

。

Blank box for writing the second line of the song.

。

Blank box for writing the second line of the song.

。

Blank box for writing the first line of the song.

は、

Blank box for writing the first line of the song.

で いっぱいだ。

9/15(すい)

★ きょうかしよ 84ページ

たしかめもんだい

なまえ _____

1 なんこ ありますか。



★10のまとまり
せんで かと

_____ こと

2 かずを かきましょう。

① 14は 10と

② 19は と 9

③ 20と 7で

④ 10が 3こで

3 かずを かきましょう。

① — 13 — 14

② 23 — — 21

③ — — — 8

④ — 15 — 20

4 けいさんを しましょう。

① $10+7=$

② $15-5=$

③ $12+6=$

④ $13+3=$

⑤ $17-3=$

⑥ $19-8=$

⑦ $24+4=$

⑧ $29-4=$

⑨ $12-9=$

★うらの もんだいも やってみよう!

9/15(すい)

★ きょうかしよ 84ページ

たしかめもんだい

なまえ _____

1 なんこ ありますか。



★10のまとまり
せんで かこ

_____ こ

2 かずを かきましょう。

① 14は 10と

② 19は と 9

③ 20と 7で

④ 10が 3こで

3 かずを かきましょう。

① — 13 — 14

② 23 — — 21

③ — — — 8

④ — 15 — 20

4 けいさんを しましょう。

① $10+7=$

② $15-5=$

③ $12+6=$

④ $13+3=$

⑤ $17-3=$

⑥ $19-8=$

⑦ $24+4=$

⑧ $29-4=$

⑨ $12-9=$

★うらの もんだいも やってみよう!


10よりおおきいかずの
けいさん (1)

9/15(水) 10よりおおきいかずの
けいさん (2) なまね ()

めいろは、こたえのおおきいほうをとおりましよう。とおったこたえをしたの□にかきましよう。

- ① $4+5=$ ② $10+9=$ ③ $11+4=$
- ④ $3+2=$ ⑤ $11+3=$ ⑥ $14+3=$
- ⑦ $10+2=$ ⑧ $18+1=$ ⑨ $10+3=$
- ⑩ $3+4=$ ⑪ $11+8=$ ⑫ $15+2=$
- ⑬ $3+5=$ ⑭ $16+2=$ ⑮ $15+4=$
- ⑯ $11+5=$ ⑰ $14+2=$ ⑱ $2+7=$
- ⑲ $17+2=$ ⑳ $10+8=$ ㉑ $3+3=$
- ㉒ $2+3=$ ㉓ $16+3=$ ㉔ $2+5=$
- ㉕ $10+6=$ ㉖ $16+1=$ ㉗ $11+7=$
- ㉘ $15+3=$ ㉙ $12+6=$ ㉚ $2+4=$
- ㉛ $11+2=$ ㉜ $14+4=$ ㉝ $3+6=$

- ① $16-5=$ ② $18-1=$ ③ $14-3=$
- ④ $14-2=$ ⑤ $19-4=$ ⑥ $19-1=$
- ⑦ $13-1=$ ⑧ $17-5=$ ⑨ $15-5=$
- ⑩ $18-4=$ ⑪ $19-3=$ ⑫ $18-2=$
- ⑬ $13-3=$ ⑭ $18-5=$ ⑮ $13-2=$
- ⑯ $16-4=$ ⑰ $11-1=$ ⑱ $15-2=$
- ⑲ $19-7=$ ⑳ $17-3=$ ㉑ $12-1=$
- ㉒ $16-3=$ ㉓ $18-6=$ ㉔ $19-9=$



20までの
かず (1)

9/15(すい) 20までの
かず (2) なまえ ()

● □に かずを かきましょう。

① 10 □ 12 □ 14 □

② 15 □ 17 18 □ □

③ 18 □ 16 15 □ □

④ 10 12 □ 16 □ □

⑤ 5 □ 15 □

□ □に かずを かきましょう。


① 15より 2 おおきい かず □


② 20より 4 ちいさい かず □

③ 18より 3 ちいさい かず □


② えと すうじを せんで むすびましょう。

①  □ 17

②  □ 14

③  □ 20


めいろは、かずのおおきいほうを とおりましょう。とおった かずを したの □に かきましょう。




とけい①(1)

なまえ


9/17(きん)




● とけいの はりを よみましょう。



()じ(はん)




()じ



()じ




()じ()




()じ





()じ



()じ




()じ()




()じ()




()じ



()じ



()じ()



()じ

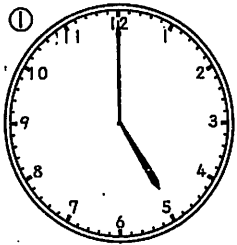


()じ


とけい ①(2) なまえ

9/17 とけい ①(3) なまえ (きん)


● とけいの はりを よみましょう。



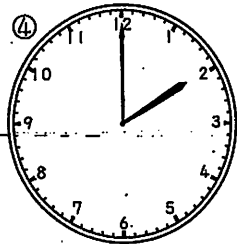
()じ



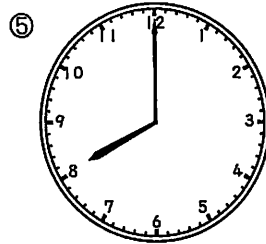
()じ



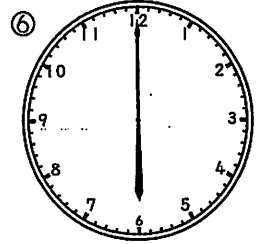
()じ



()じ




()じ



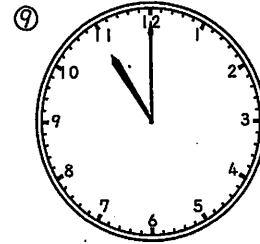
()じ




()じ



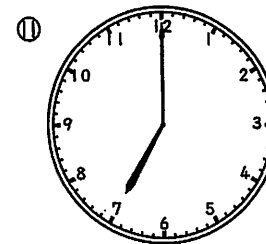
()じ




()じ



()じ



()じ




()じ

● とけいの はりを よみましょう。



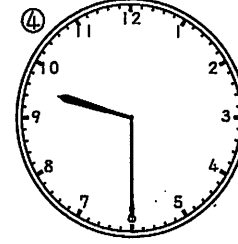
()じ(はん)()じ()()じ()




()じ()




()じ()



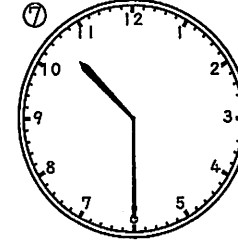
()じ()()じ()()じ()




()じ()




()じ()




()じ()()じ()()じ()



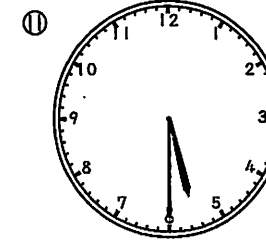
()じ()




()じ()



()じ()()じ()()じ()



()じ()



()じ()

8

なんじ なんじはん

なまえ

くみ ぼん

9/21

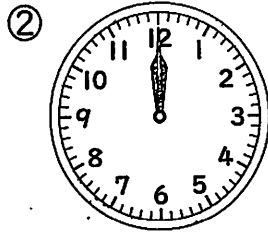
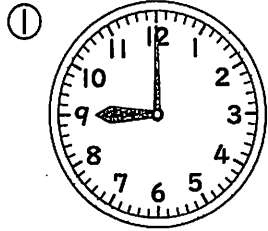
(か)

② ながい はりを かきましょう。

① 7じ



② 5じ

① とけいを よみましょう。





()

()





()

()





()

()




③ 1じはん

④ 9じはん



③ あやかさんが がっこうで とけいを みました。

あう ものを せんで むすびましょう。



8

なんじ なんじはん

なまえ

くみ ぼん

9/21

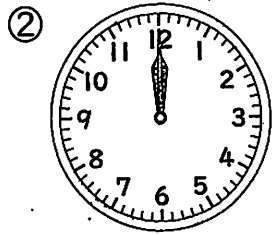

(か)

② ながい はりを かきましょう。

① 7じ



② 5じ

① とけいを よみましょう。





()

()





()

()





()

()



③ 1じはん

④ 9じはん



③ あやかさんが がっこうで とけいを みました。


あう ものを せんで むすびましょう。



★ きょうかしよ 88ページ

なまえ _____

1) なんぼん ありますか。



★10のまとまりを せんで かごもう。


2) かずを かきましょう。

- ① 10と4で ② 19は と 9

3) どちらが おおきいでしょうか。

- ① 12 9 ② 15 17 ③ 20 19

4) とけいを よみましょう。



じゅんぴ ()じ()じ() ()じ()

- 5) ① $2+6=$ ② $4+3=$ ③ $10+5=$ ④ $16+3=$
⑤ $7-2=$ ⑥ $10-4=$ ⑦ $12-2=$ ⑧ $19-6=$

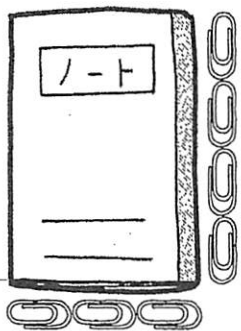
ながさくらべ(1)

な
ま
え

9/24
(きん)

ながさをくらべましょう。ながいほうの()に○をつけましょう。

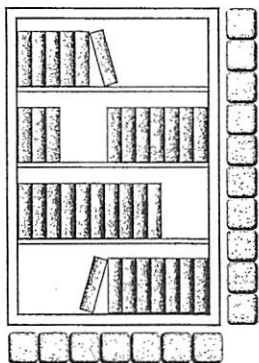
① のうと



たて
()

よこ()

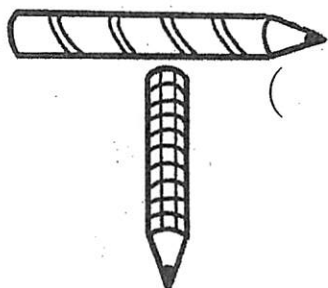
② ほんだな



たて
()

よこ()

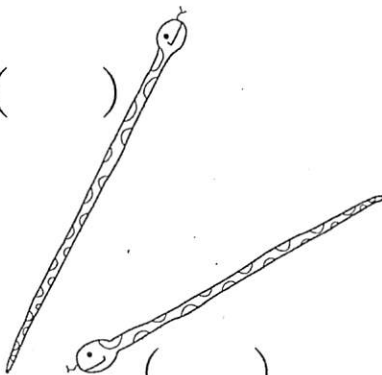
③ えんぴつ



()

()

④ へび



()

()

ながさくらべ(2)

な
ま
え

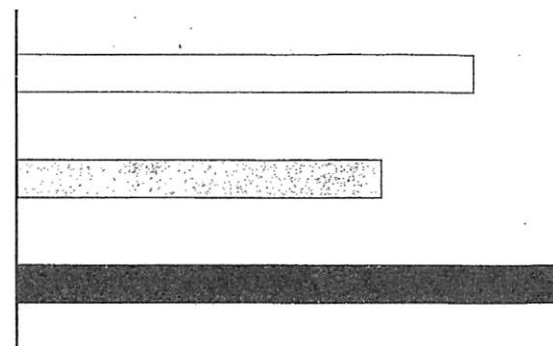
ながいじゆんに()に1, 2, 3をかきましよう。

①

()

()

()

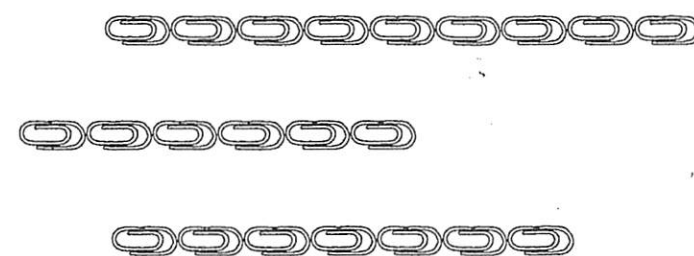


②

()

()

()



③

()

()

()

