

9/15(水)4時間めの「国ご」のじゅぎょうの プリントです。

2年()くみ 名前()

おはなしのくに NHK for Scholl を見て、心にのこったこと を書
きましょう。

さるかにがっせん

スーホーの白い馬

① 計算を しましょう。

①

	7	6
+	4	1

②

	3	8
+	9	2

③

	5	5
+	4	5

④

	1	3	8
-		5	3

⑤

	1	1	7
-		2	5

⑥

	1	4	0
-		4	6

⑦

	1	0	3
-		2	5

⑧

	1	0	0
-		7	9

⑨

	1	0	6
-			8

② 計算を しましょう。

①

	5	2	8
+		1	5

②

			6
+	3	0	4

③

	4	8	7
-		3	9

④

	7	4	2
-			5

3 ^{みなみ}南小学校の 2年生は 3クラスです。1組が 29人、2組が 32人、3組が 31人です。

2年生は ぜんぶで 何人ですか。くふうして計算しましょう。

しき

答え

くふうした計算

=

4 ^{うし}牛が 85頭、^{とら}ひつじが 100頭 います。

どちらが どれだけ 多いでしょうか。

しき

ひっ算

答え

5 右の 計算は まちがっています。

どこが まちがって いるか書きましょう。

また、正しい 答えを もとめましょう。

正しい答え

	1	0	3
-		6	7

		⑩	⑩
	/	0	3
-		6	7
		4	6

① 計算のまちがいを 見つけて、正しく 計算しましょう。

①

$$\begin{array}{r} 68 \\ + 74 \\ \hline 132 \end{array}$$

$$\begin{array}{r} 68 \\ + 74 \\ \hline \end{array}$$

②

$$\begin{array}{r} 76 \\ + 29 \\ \hline 95 \end{array}$$

$$\begin{array}{r} 76 \\ + 29 \\ \hline \end{array}$$

② 計算を しましょう。

①

	4	6
+	7	3
<hr/>		

②

	5	3
+	8	4
<hr/>		

③

	8	7
+	6	9
<hr/>		

④

	8	2
+	7	8
<hr/>		

⑤

	3	5
+	6	7
<hr/>		

⑥

	7	4
+	2	6
<hr/>		

⑦

		8
+	9	9
<hr/>		

⑧

	9	8
+		6
<hr/>		

⑨

		3
+	9	7
<hr/>		

③ くふうして 計算しましょう。

$$\begin{aligned} \textcircled{1} \quad & 33 + (58 + 12) \\ & = 33 + \boxed{} \\ & = \boxed{} \end{aligned}$$

$$\begin{aligned} \textcircled{2} \quad & 17 + 49 + 43 \\ & = (17 + \boxed{}) + 49 \\ & = \boxed{} + 49 \\ & = \boxed{} \end{aligned}$$

④ あさがおの たねを ひとみさんは 65こ、ゆうたさんは 58こ とりました。
2人で 何こ とりましたか。

しき

ひっ算

答え

⑤ あんなさんの 学校では あきかんを きのう 94こ あつめました。今日は 68こ
あつめました。

合わせて 何こに なりましたか。

しき

ひっ算

答え

● □に かんじをかきましよう。「」は、かんじとひらがなで かきましよう。

① まい にち あるく。

② ごほん の えんぴつ。

③ な まえをか。

④ たかい やま へのぼる。

⑤ こむし をとる。

⑥ いぬ どもとおとな。

⑦ だい のさんぽ。

⑧ ひやく すきなうた。

⑨ かん てんをとる。

⑩ かん じ をならう。

⑪ そとへ てる。

⑫ あか とんぼがとぶ。

⑬ まん げつ のよる。

⑭ こかげで やすむ。

⑮ ゆう がたになる。

⑯ がっこう へいく。

⑰ はやく かぞえる。

⑱ やっつ おきる。

⑲ むら のおまつり。


⑳ たいしい こたえ。



時計を よもう

● つぎの ^{とけい} 時計を よみましょう。

①



()

②



()

● ^{せん} 線で むすびましょう。

③




6:15

④



1:40

⑤



10:23



国語プリント ⑧

9/15 10~109

なつ 休み まて に なら った

かき

なまえ

くみ

ぼん

●□にかん字をかきましよう。「」は、かん字とひらがなでかきましよう。

① 本を [] よむ
 []
 ② [] はる
 休みになる。
 ③ [] くらう
 [] 犬。

④ [] ゆき
 がふる。
 ⑤ ふしぎに [] おもつ
 []
 ⑥ 犬が [] ふとる
 []

⑦ おれいを [] いう
 []
 ⑧ [] にっ き
 をつける。
 ⑨ [] け いと
 [] てあむ。

⑩ 山へ [] いく
 []
 ⑪ [] と よう び
 []
 ⑫ [] たかい
 [] 山。

⑬ [] みなみ
 をむく。
 ⑭ [] にく
 をやく。
 ⑮ [] かぜ
 がふく。


⑯ [] え
 をかく。
 ⑰ 先生のお [] はなし
 []
 ⑱ 空が [] はれる
 []

⑲ 町の [] と しよ
 [] 館。
 ⑳ 音を [] きく
 []
 ㉑ 人が [] おおい
 []


㉒ ニつに [] わける
 []
 ㉓ [] き いろ
 [] い かさ。
 ㉔ [] かたち
 がかわる。

㉕ [] ゆう がた
 [] になる。

つづきの もんだいも やりましよう。




時計




時ごとと 時間

● つぎの ^{じかん} 時間を もとめましょう。

①




から




までの 時間

()

②



から



までの 時間

()


● 下の ^{とけい} 時計の ^じ 時ごとから つぎの 時ごとを もとめましょう。

③

1時間^{まえ}の 時ごと


()

④

1時間^{あと}の 時ごと

()

⑤

50分^{ぶん}後の 時ごと

()



国語プリント⑨



10~109

なつ休みまでならった

〈かき〉

なまえ

くみ

ばん

●□に かん字をかきましよう。「」は、かん字とひらがなで かきましよう。

26 ながい
 ひも。

27 こう
 ない
 であそぶ。

28 あるく

29 かず
 りんごの 。

30 みせ
 の人。

31 さかな
 がおよぐ。

32 からだ
 をきたえる。

33 あね
 やさしい 。

34 ひろい
 へや。

35 ちかく
 学こうの

36 いもうと
 とあそぶ。

37 まえ
 を見る。

38 おなじ
 大きき。

39 せん
 白

40 げん
 き
 を出す。

41 いま
 とむかし。

42 き
 しや
 にのる。

43 いわ
 にのぼる。

44 かい
 しや
 につとめる。

45 うみ
 青

46 おしえる
 字をか


47 かたな
 おもちやの

48 いっ
 かい
 できる。

49 ひかり
 まぶしい

50 きる
 ニつに

つぎの もんだいも やりましよう。



時計



午前, 午後をつかった 時こくと 時間

- 午前, 午後をつかって, つぎの時こくを書きましょう。

①



あさ 朝, かおを あらう。

()

②




よる 夜, はを みがく。

()

- つぎの時間を 求めましょう。


③

(午前)



から

(午前)



までの 時間

()

④

(午後)



から

(午後)




までの 時間

()


⑤

(午前)



から

(午後)



までの 時間

()

●□にかん字をかきましよう。「」は、かん字とひらがなでかきましよう。

51 本で

しる
[]
。

52

うしろ
[]
をむく。

53

とも
[]
だちになる。

54 よく

かんがえる
[]
。

55

まる
[]
をつける。

56 トンボの

はね
[]
。

57 ほけん

しつ
[]
で休む。

58

てん
[]
をうつ。

59

くも
[]
がうかぶ。

60 うでを

くむ
[]
。

61 くつを

かう
[]
。

62

なつ
[]
ふくをきる。

63 バスが

とおる
[]
。

64

いち まん えん
[]
。

65

こ とり
[]
をかう。

66 小さな

こう えん
[]
。

67

あたま
[]
がいたい。

文しょうだい



2けたの たし算

● つぎの もんだいに ^{こた} 答えましょう。

① ^{きいろ} 黄色い 花が 36本, ^{しろ} 白い 花が 21本 ^{さいて} さいて います。あわせて ^{なん} 何本 ^{さいて} さいて いますか。
(しき)

答え()

② ^{がみ} おり紙を 57まい ^{もって} もって います。^{きょう} 今日 9まい ^か 買うと, ^{ぜんぶ} おり紙は ぜんぶで 何まいに なりますか。
(しき)

答え()

③ ^{かずみ} かずみさんは ^{なわとび} なわとびを 68回 ^{とびました} とびました。
^{ゆき} ゆきさんは ^{かずみ} かずみさんより 15回 ^{おほく} 多く とびました。
^{ゆき} ゆきさんは 何回 とびましたか。
(しき)

答え()

そう合もんだい

1

名前

点数

文しようにを 読んで 答えましよう。

ススキの 実の 株たちです。ススキのおかあさんが つけて くれた銀色の毛で、空高く とんで ゆきます。

池に おちたり、クロナガアリの すにはこびこまれた 実は、芽ばえる ことができます。

しもばしらの 上の ススキの 実です。寒い 冬を こして、春に なると 芽ばえます。

冬の 晴れた 日に、ガマの ほは、とつぜん、わた毛を ふきだします。ガマの 実の 株たちです。

ガマの 実は、池に おちた ものが 芽ばえます。ズボンに くつついて、ヒッチハイクする 実。

ヌスビトハギの実は、実の 皮の、かぎや、とげで、ふくに つきます。

メナモミやチヂミザサの 実は、のりで くつつきます。

ヤマフジの たねは、実の 皮が はじける カで、いきおいよく、とんで ゆきます。

たねは、十メートルも とぶ ことがあります。

〔たねがし〕植沙蒴：「理科や算数がすきになる2年生の読みの」学校図書

① ススキの 実で、芽ばえる ことのできないのは、どんな 実ですか。 (20点)

におちたり、
のすに
実。

② ススキの 実で、春に なると 芽ばえるのは、どうして きた 実ですか。 (20点)

③ ガマの 実は、どんな ものが 芽ばえますか。 (20点)

④ のりで くつつくのは、何の 実ですか。 (10点)

(10点)

⑤ ヤマフジの たねは、どんな カで、いきおいよく とびますか。 (20点)

文しょうだい



2けたの ひき算

● つぎの もんだいに ^{こた} 答えましょう。

① 子どもが **49**人 あそんで います。**14**人 ^{かえ} 帰ると
のこりは ^{なん} 何人に なりますか。

(しき)

答え()

② まさとさんは シールを **27**まい, たくみさんは
シールを **20**まい もって います。

どちらが 何まい ^{おお} 多く もって いますか。

(しき)

答え(_____ さんのほうが _____ まい多くもっている。)

③ パンは **85**円です。ドーナツは パンより **6**円
やすいそうです。ドーナツは 何円ですか。

(しき)

答え()

□にかんじをかきましよう。()は、かんじをひらがなでかきましよう。

- | | | | | | | | | | |
|-------------|---------------|-------------|---------------|------------|-------------|------------|------------|------------|--------------|
| ① まい 日 あるく。 | ② 五 本 の えんぴつ。 | ③ 名 まえをかく。 | ④ たかい 山 にのぼる。 | ⑤ 虫 をとる。 | ⑥ 子 どもとおとな。 | ⑦ 犬 のさんぽ。 | ⑧ 大 すきなうた。 | ⑨ 百 てんをとる。 | ⑩ かん 字 をならう。 |
| ⑪ そとへ 出る | ⑫ 赤 とんぼがとぶ。 | ⑬ まん 月 のよる。 | ⑭ こかけて 休む | ⑮ 夕 がたになる。 | ⑯ 学 校 へいく。 | ⑰ ハッ かぞえる。 | ⑱ 早 く おきる。 | ⑲ 村 のおまつり。 | ⑳ 正 しい こたえ。 |

2年 (かき) 10~11歳
 新学社

□にかんじをかきましよう。()は、かんじをひらがなでかきましよう。

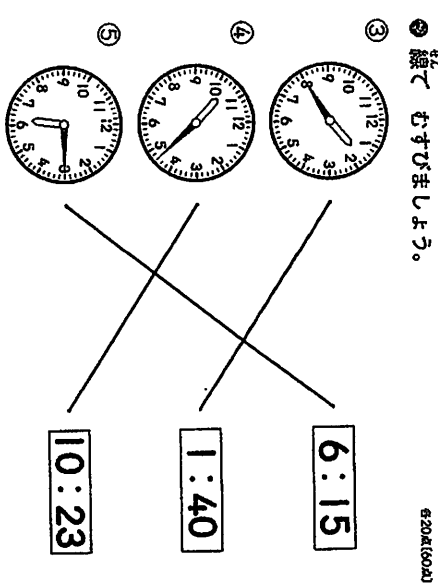
- | | | | | | | | | | |
|----------|------------|----------|-----------|-----------|---------|-----------|---------|-----------|-----------|
| ① 本を 読む | ② 春 休みになる。 | ③ 黒い 犬 | ④ おれいぞ 言う | ⑤ ふしぎに 思う | ⑥ 犬が 太る | ⑦ 山へ 行く | ⑧ 土 曜 日 | ⑨ 肉 をやう | ⑩ 高い 山 |
| ⑪ 雪 がふる。 | ⑫ ふしぎに 思う | ⑬ 犬が 太る | ⑭ おれいぞ 言う | ⑮ ふしぎに 思う | ⑯ 犬が 太る | ⑰ 山へ 行く | ⑱ 土 曜 日 | ⑲ 肉 をやう | ⑳ 高い 山 |
| ⑳ 絵 をかく。 | ㉑ 先生のお話 | ㉒ 空が 晴れる | ㉓ 町の 図書館 | ㉔ 音を 聞く | ㉕ 人が 多い | ㉖ ニつに 分ける | ㉗ 黄色 | ㉘ 形 がかわる。 | ㉙ 夕方 になる。 |



時をよめよう 新学社

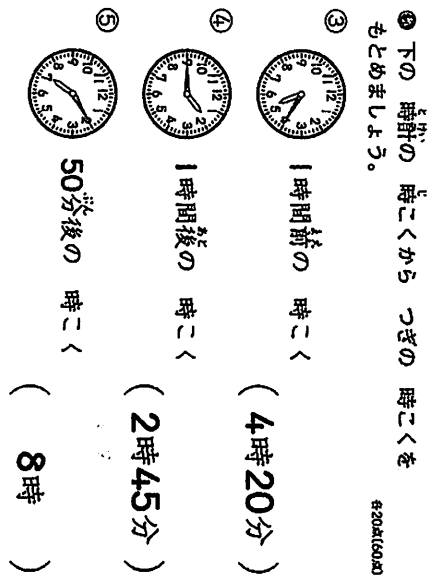
- ① つぎの時計をよみましょう。
- ②

(3時30分) (7時54分)
 (3時半)



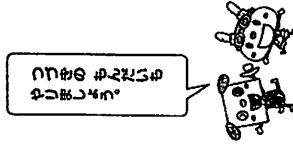
時ごとと時間 新学社

- ① つぎの時間をよめましよう。
- ②
- ③



●□にかな字をかきまじらへ。〔は〕は、かな字とひらがなをかきまじらへ。

- ① 長い ひも
- ② 校内で遊ぶ
- ③ ゆっくり 歩く
- ④ りんごの 数
- ⑤ 店の 人
- ⑥ 魚が およぶ
- ⑦ 体を きたえる
- ⑧ やさしい 姉
- ⑨ 広い へや
- ⑩ 近くの 近く
- ⑪ 妹と遊ぶ
- ⑫ 前を見る
- ⑬ 同じ 大きさ
- ⑭ 白い 線
- ⑮ 元気を 出す
- ⑯ 今と おかし
- ⑰ 汽車に のる
- ⑱ 岩に のぼる
- ⑲ 会社 に つとめる
- ⑳ 背い 海
- ㉑ 字を 教える
- ㉒ おもちの 刀
- ㉓ 一回 してきまる
- ㉔ まるい 光
- ㉕ 二つに 切る



●午前、午後をつかって、つぎの時ごくを書きましよう。 各20点(40点)

- ① 朝、かおを あらう。
(午前7時5分)
- ② 夜、はを みがく。
(午後8時50分)
- ③ つぎの時間を もとめましよう。 各20点(60点)
- ④ (午前) から までの 時間
(2時間)
- ⑤ (午後) から までの 時間
(3時間)
- ⑥ (午前) から までの 時間
(7時間)

●□にかな字をかきまじらへ。〔は〕は、かな字とひらがなをかきまじらへ。

- ① 全て 知る
- ② 後ろを みる
- ③ 女 だちになる
- ④ よく 考える
- ⑤ 丸を つける
- ⑥ トンボの 羽
- ⑦ ほけん 室で 休む
- ⑧ 点を うつ
- ⑨ 雲が うかぶ
- ⑩ うそを 組む
- ⑪ くつを 買う
- ⑫ 夏が くる
- ⑬ バスが 通る
- ⑭ 一万円
- ⑮ 小鳥を つかう
- ⑯ 小さな 公園
- ⑰ 頭が いたい

- つぎの もんだいに 答えましよう。
- ① 黄色い 花が 36本、白い 花が 21本 さいて います。あわせて 何本 さいて いますか。 (30点) (しぎ)
 $36+21=57$
答え (57本)
- ② おり紙を 57まい もって います。今日 9まい 買くと、おり紙は ぜんぶで 何まいに なりますか。 (30点) (しぎ)
 $57+9=66$
答え (66まい)
- ③ かずみさんは なわとびを 68回 とびました。ゆきさんは かずみさんより 15回 多く とびました。ゆきさんは 何回 とびましたか。 (30点) (しぎ)
 $68+15=83$
答え (83回)

そう合もんだい

1

名前

点数

電文しよを 読んで 答えましよう。

ススキの 実の 穂だちです。ススキの おおあさんが つけて くれた 根色の もつ、空高く とんで ゆきます。

池に おちたり、クロナガアリの すには こびこまれた 実 は 芽はえる ことが できません。

しもはらの 上の ススキの 実です。 寒い 冬を こして、春に なる と 芽は えます。

冬の 晴れた 日に、ガマの ほはと つげんに、わたもを さらだします。ガマの 実の 穂だちです。

ガマの 実 は、池に おちた ものが 芽は えます。

スポンに くっついて、ヒマチハイクす る 実。

ヌストハギの 実 は、実の 皮の かきや、 とけて、ふくに つまます。

メナモミやチヂミササの 実 は、のりて くっつきます。

ヤマフジの たねは、実の 皮が はじ ける カで、いきおいよく とんで ゆき ます。

たねは、十メートルも とびこる ことが あります。

① ススキの 実で、芽はえる ことの てきないのは、どんな 実ですか。

(20点)

池に おちたり、クロナガアリ の すには、こびこまれた 実。

② ススキの 実で、春に なる と 芽は えるのは、どうして、また 実で ずか。

(20点)

寒い冬をこして、実が

③ ガマの 実 は、どんな ものが 芽は えますか。

(20点)

池に おちた もの。

④ のりて、くっつくのは、何の 実で ずか。

メナモミ

(10点)

チヂミザサ

(10点)

⑤ ヤマフジの たねは、どんな いきおいよく とびますか。

(20点)

実の皮がはじけるカ



2けたの ひき算

21

● つぎの もんだいに 答えましよう。

① 子どもが 49人 おそんで います。14人 帰るとのこりは、何人に なりますか。

(30点)

49-14=35

答え (35人)

② まさとさんは シールを 27まい、たくみさんは シールを 20まい もって います。

どちらが 何まい 多く もって いますか。

(30点)

27-20=7

答え(まさとさんのほうが 7まい多くもっている。)

③ パンは 85円です。ドーナツは、パンより 6円 やすいそうです。ドーナツは、何円ですか。

(40点)

85-6=79

答え (79円)

① 計算をしましょう。

	7	6
+	4	1
1	1	7

	1	
	3	8
+	9	2
1	3	0

	1	
	5	5
+	4	5
1	0	0

	3	8
-	5	3
	8	5

	1	7
-	2	5
	9	2

	3	0
-	4	6
	9	4

	0	3
-	2	5
	7	8

	0	0
-	7	9
	2	1

	0	6
-		8
	9	8

② 計算をしましょう。

	1		
	5	2	8
+		1	5
5	4	3	

	1		
			6
+	3	0	4
3	1	0	

	7	7	
4	7		
-	3	9	
4	4	8	

	3		
	7	2	
-		5	
7	3	7	

① 計算のまちがいを 見つけて、正しく 計算しましょう。

	6	8
+	7	4
1	3	2

	6	8
+	7	4
1	4	2

	7	6
+	2	9
	9	5

	7	6
+	2	9
1	0	5

② 計算をしましょう。

	4	6
+	7	3
1	1	9

	5	3
+	8	4
1	3	7

	1	
	8	7
+	6	9
1	5	6

	1	
	8	2
+	7	8
1	6	0

	1	
	3	5
+	6	7
1	0	2

	1	
	7	4
+	2	6
1	0	0

	1	
	8	
+	9	9
1	0	7

	1	
	9	8
+		6
1	0	4

	1	
		3
+	9	7
1	0	0

③ 南小学校の 2年生は 3クラスです。1組が 29人、2組が 32人、3組が 31人です。

2年生は ぜんぶで 何人ですか。くふうして計算しましょう。

しき $29+32+31=$

くふうした計算
 $= (29+31)+32$
 $= 60+32$
 $= 92$

答え 92 人

④ 羊が 85頭、ひつじが 100頭 います。どちらが どれだけ 多いでしょうか。

しき $100-85$

ひっ算

1	0	0
-	8	5
	1	5

答え ひつじが 15頭(多い)

⑤ 右の 計算は まちがっています。

どこが まちがって いるか書きましょう。

また、正しい 答えを もとめましょう。

正しい答え

	0	3
-	6	7
	3	6

	0	3
-	6	7
	4	6

③ くふうして 計算しましょう。

① $33+(58+12)$ ② $17+49+43$

$= 33+70$ $= (17+43)+49$

$= 103$ $= 60+49$

$= 109$

④ あさがおの たねを ひどみさんは 65こ、ゆうたさんは 58こ とりました。2人で 何こ とりましたか。

しき $65+58=123$

ひっ算

	6	5
+	5	8
1	2	3

答え 123 こ

⑤ あんさんの 学校では あさかんを さのう 94こ あつめました。今日は 68こ あつめました。

合わせて 何こに なりましたか。

しき $94+68=$

ひっ算

	9	4
+	6	8
1	6	2

答え 162 こ

かてい学習・音読カード (17日~30日)



○おうちの人にきいてもらって
しるしをもらいましょう。

2の 名前 ()

日	読んだところ	かんぽい ◎○△	かてい学習				いえの 人の しるし	先生の しるし
			かん字ドリル	けいさんドリル	プリント	その他		
15	ことばあそびをしよう							
16	”							
17	”							
18	”							
19	”							
20	なかまのことばと かん字							
21	”							
22	”							
23	”							
24	いなほの 白うさぎ							
25	”							
26	”							
27	”							
28	”							
29	”							
30	”							